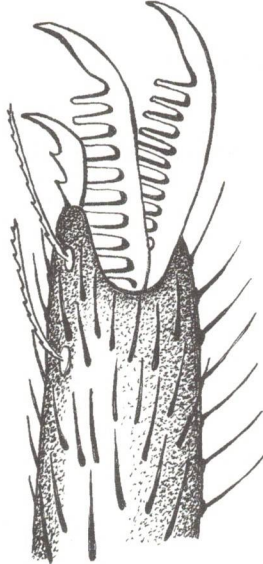




PŘEHLED ORGANISMŮ

Pavoukovci


- 1** Ve škole si žáci prohlíželi v mikroskopu tento preparát a měli pojmenovat, co vidí. Pomoz jim a dokonči větu.



Na obrázku je

- 2** Koncem léta se stává, že vzduchem poletují drobné pavučinky. Tomuto období říkáme „babí léto“. Vzpomeň si na jméno pavouka, který tyto pavučinky tvoří?

Nápověda je v tajence.



Název dužnatého plodu

Nejznámější roztoč

Skupina měkkýšů, kam patří hlemýžď

Houba, která napomáhá kynutí těsta

Soužití houby a zelené řasy nebo sinice

Důležitá část těla žízal

- 3** Rozsud' 2 kamarády, kteří se dohadovali, jak správně odstranit klíště.

Petr tvrdil, že nejdůležitější je odstranit ho co nejrychleji, proto chtěl vzít pinzetu a klíště z kůže rychle vytrhnout.

Jirka byl ale proti, navrhoval klíště z kůže opatrně vykrotit.

Kdo měl pravdu a proč?

.....



Korýši

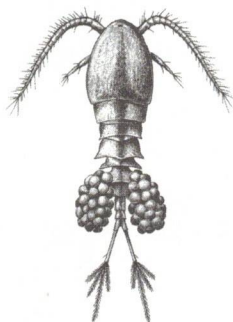
1 Doplň do textu chybějící slova:

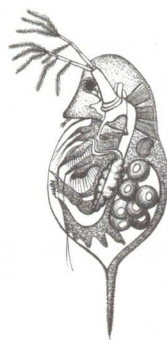
Tělo raka se dělí na a Je chráněno tvrdým První pár končetin je zakončen Rak se živí hlavně živočichy. Dýchá, má nervovou soustavu. Jeho vývin je

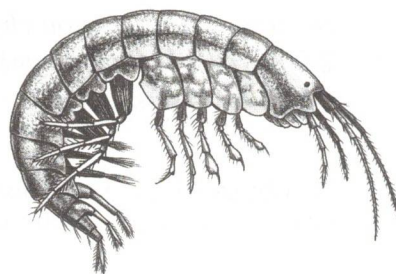
2 Pojmenuj živočichy na obrázcích. Názvy zapiš do rámečků pod obrázky.











3 Zařaď zástupce korýšů z nabídky do prostředí, ve kterém žijí. Využij tabulku.

humr, rak, stínka, blešivec, krab, langusta, beruška, svinka

Moře	Sladká voda	Vlhké prostředí